



- CE2 : Je sais compléter une suite.
- CE2 : Je sais encadrer un nombre à la centaine.
- CM1 : Je sais identifier la règle d'une suite logique.

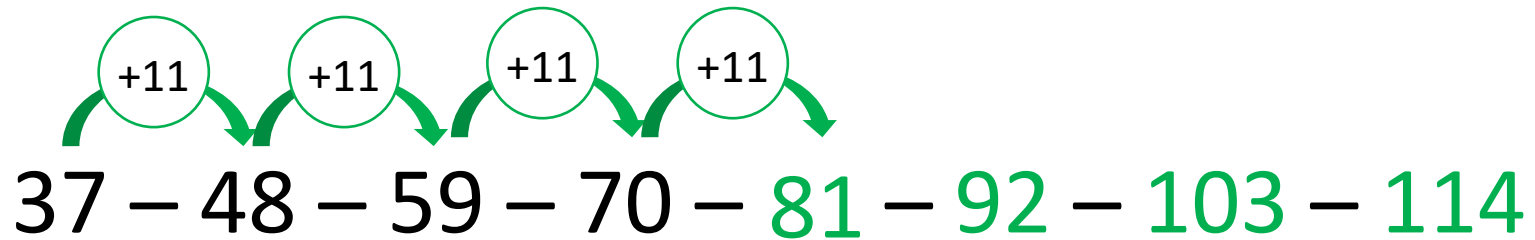
► Complète la suite des nombres.

7500 – 7525 – – –
 – – – – –
 – – – – –

Complète la suite des nombres.

37 – 48 – 59 – 70 – ... – ... – ... – ...

► Correction

CM1

► Complète la suite des nombres.

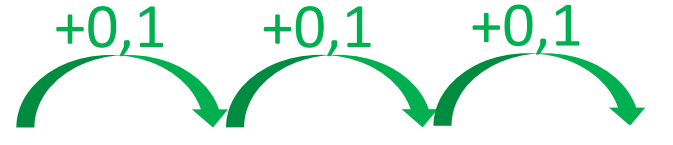
4 200 – 4 100 – 4 000 – –
 – – – – –
 – – – – –

Complète la suite des nombres.

1,5 – 1,6 – 1,7 – ... – ... – ... – ...

► Correction

CM1



$1,5 - 1,6 - 1,7 - 1,8 - 1,9 - 2 - 2,1$

► Encadre à la centaine les nombres suivants.

..... < 2 117 <

..... < 4 701 <

..... < 5 990 <

Complète la suite des nombres.

CM1

955 – 855 – 754 – 652 – ... – ... – ...

► Encadre à la centaine les nombres suivants.

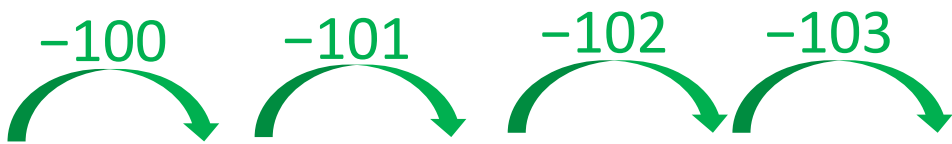
..... < 2 117 <

..... < 4 701 <

..... < 5 990 <

Correction

CM1



 955 – 855 – 754 – 652 – **549 – 445 – 340**

► Encadre à la centaine les nombres suivants.

CE2

$$\dots\dots\dots < 2\,117 < \dots\dots\dots$$

$$\dots\dots\dots < 4\,701 < \dots\dots\dots$$

$$\dots\dots\dots < 5\,990 < \dots\dots\dots$$

Complète la suite des nombres.

CM1

$$2 - 4 - 12 - 48 - \dots - \dots$$

► Correction

CE2

$$2\ 100 < 2\ 117 < 2\ 200$$

$$4\ 700 < 4\ 701 < 4\ 800$$

$$5\ 900 < 5\ 990 < 6\ 000$$

CM1



$$2 - 4 - 12 - 48 - 240 - 1\ 440$$